

**Демонстрационный вариант
Информатика и ИКТ (стартовая работа)
6 класс**

Продолжительность работы: 30 минут

1

Отметьте устройства для хранения информации

- 1) DVD-диск
- 2) монитор
- 3) жёсткий диск
- 4) мышь
- 5) флеш-память
- 6) микрофон
- 7) динамики
- 8) проектор

2

Определите вид информации, которую получает ребёнок, изображённый на картинке.



- 1) звуковая
- 2) осязательная
- 3) зрительная
- 4) обонятельная
- 5) вкусовая

3 Ваня шифрует русские слова, записывая вместо каждой буквы её номер. Номера букв даны в таблице.

А	1	Ж	8	Н	15	Ф	22	Ы	29
Б	2	З	9	О	16	Х	23	Ь	30
В	3	И	10	П	17	Ц	24	Э	31
Г	4	Й	11	Р	18	Ч	25	Ю	32
Д	5	К	12	С	19	Ш	26	Я	33
Е	6	Л	13	Т	20	Щ	27		
Ё	7	М	14	У	21	Ъ	28		

Расшифруйте сообщение:
3-16-5-1 12-1-14-6-15-30 20-16-25-10-20

Ответ: _____.

4 Что получится из исходного текста после нажатия указанной клавиши?
 Обозначение: «|» – курсор.

Текст	Нажатая клавиша																										
<table border="1"> <tr> <td>Д</td><td>р</td><td>у</td><td>ж</td><td>б</td><td>у</td><td></td><td>п</td><td>о</td><td>м</td><td>н</td><td>и</td><td>,</td> </tr> <tr> <td> а</td><td></td><td>з</td><td>л</td><td>о</td><td></td><td>з</td><td>а</td><td>б</td><td>ы</td><td>в</td><td>а</td><td>й</td> </tr> </table>	Д	р	у	ж	б	у		п	о	м	н	и	,	а		з	л	о		з	а	б	ы	в	а	й	Enter
Д	р	у	ж	б	у		п	о	м	н	и	,															
а		з	л	о		з	а	б	ы	в	а	й															

- 1) Дружбу помни, а зло забывай
- 2) Дружбу помни,
 зло забывай
- 3) Дружбу помни,

 а зло забывай
- 4) Дружбу помни а зло забывай

5

На столе стояло три пустые трёхлитровые банки, на которых были наклеены надписи:

- «Слива»;
- «Яблоко»;
- «Яблоко или слива».

В них налили сливовый, яблочный и грушевый сок. Известно, что каждая из надписей – неверная. Определите, какой сок был налит в каждую банку.

	СОК		НАДПИСЬ
А	сливовый	1)	«Слива»
Б	яблочный	2)	«Яблоко»
В	грушевый	3)	«Яблоко или слива»

Для каждого сока укажите номер надписи на банке.

Запишите в таблицу выбранные цифры под соответствующими буквами.

Ответ:

А	Б	В

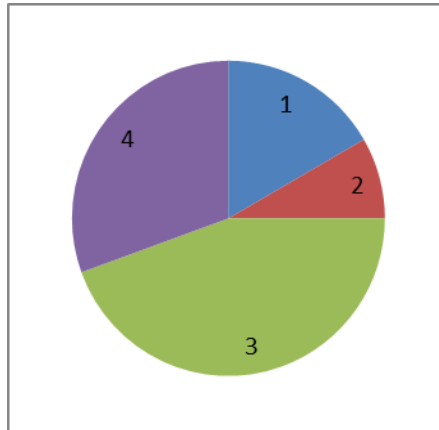
В бланк запишите ТОЛЬКО ЦИФРЫ в том порядке, в котором они идут в таблице, не разделяя их запятыми.

6

Ученики 6-х классов выбирали цвет школьной формы:

А	синяя	16 чел.
Б	бордовая	6 чел.
В	серая	11 чел.
Г	черная	3 чел.

По этим данным построена круговая диаграмма.



Определите, какому цвету соответствует каждый сектор диаграммы.

Запишите в таблицу выбранные цифры под соответствующими буквами.







Ответ:

А	Б	В	Г

В бланк запишите ТОЛЬКО ЦИФРЫ в том порядке, в котором они идут в таблице, не разделяя их запятыми.

7

Установите соответствие между инструментом графического редактора и его названием. Для этого к каждой позиции из первого столбца подберите соответствующую позицию из второго столбца.

	ИНСТРУМЕНТ	НАЗВАНИЕ
А)		1) Кривая
Б)		2) Толщина
В)		3) Заливка цветом
Г)		4) Ластик
Д)		5) Цвет
Е)		6) Линия

Запишите в таблицу выбранные цифры под соответствующими буквами.

Ответ:

А	Б	В	Г	Д	Е

В бланк запишите ТОЛЬКО ЦИФРЫ в том порядке, в котором они идут в таблице, не разделяя их запятыми.

Ответы:

1	135
2	1
3	вода камень точит
4	3
5	213
6	3142
7	456132